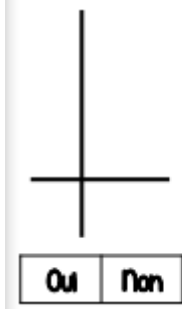


FICHE 1

NIVEAU : 

EXERCICE 1 - Compétence : Identifier et tracer des droites perpendiculaires.

Consigne : Ces droites sont-elles perpendiculaires ? Colorie la bonne réponse.



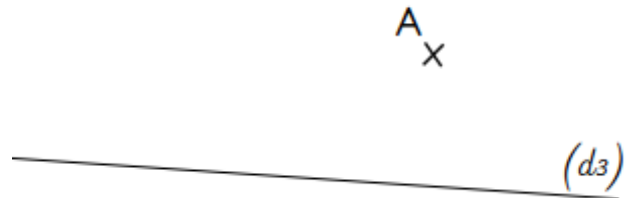
EXERCICE 2 - Compétence : Reconnaître et tracer des droites perpendiculaires.

Consigne : Trace une droite perpendiculaire à la droite (d1).



EXERCICE 3 - Compétence : Reconnaître et tracer des droites perpendiculaires.

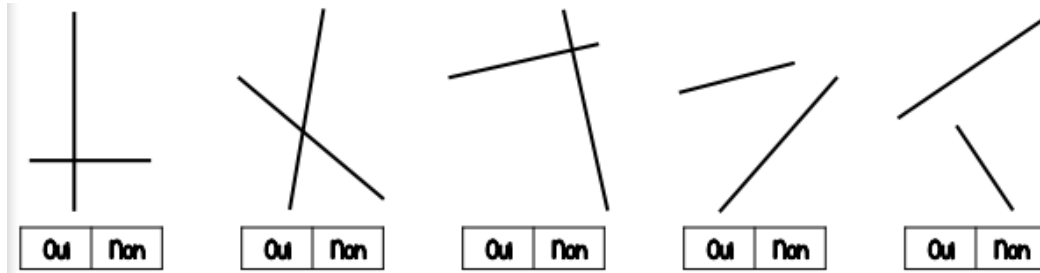
Consigne : Trace une droite perpendiculaire à la droite (d3) passant par le point A.





EXERCICE 1 - Compétence : Identifier et tracer des droites perpendiculaires.

Consigne : Ces droites sont-elles perpendiculaires ? Colorie la bonne réponse.

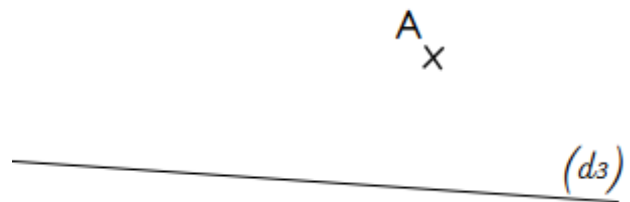


EXERCICE 2 - Compétence : Reconnaître et tracer des droites perpendiculaires.

Consigne : Trace une droite perpendiculaire à la droite (d1).

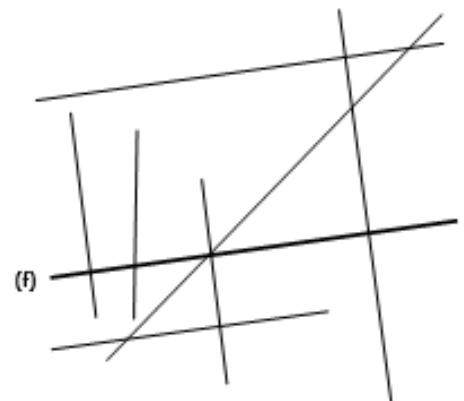
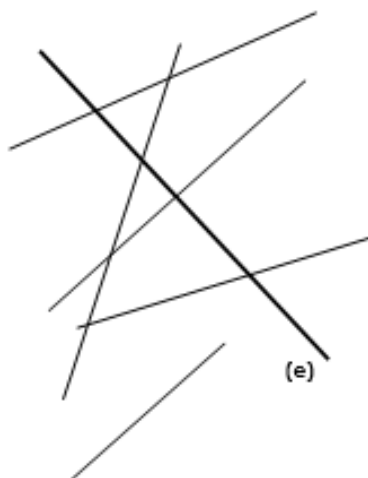
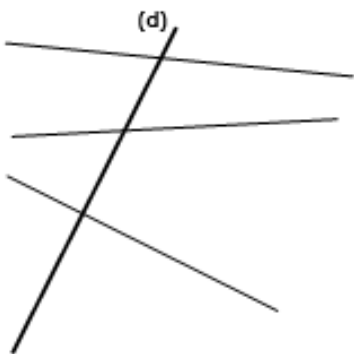
EXERCICE 3 - Compétence : Reconnaître et tracer des droites perpendiculaires.

Consigne : Trace une droite perpendiculaire à la droite (d3) passant par le point A.



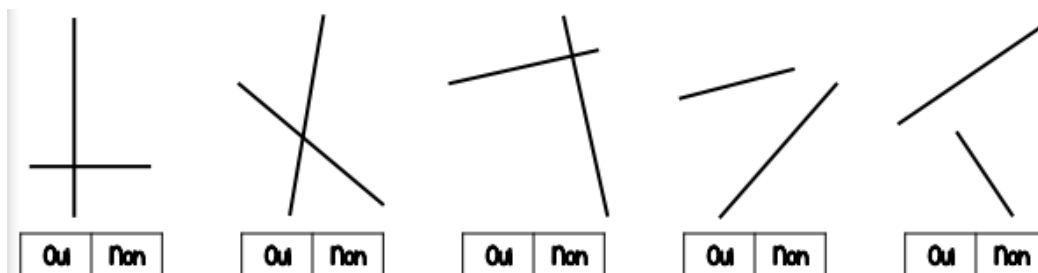
EXERCICE 4 - Compétence : Identifier et tracer des droites perpendiculaires.

Consigne : Repasse au crayon de couleur les droites perpendiculaires à (d), (e) et (f).



EXERCICE 1 - Compétence : Identifier et tracer des droites perpendiculaires.

Consigne : Ces droites sont-elles perpendiculaires ? Colorie la bonne réponse.

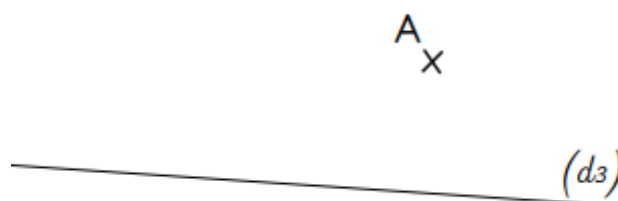


EXERCICE 2 - Compétence : Reconnaître et tracer des droites perpendiculaires.

Consigne : Trace une droite perpendiculaire à la droite (d1).

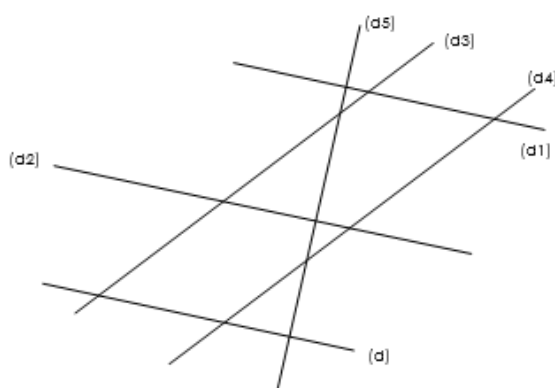
EXERCICE 3 - Compétence : Reconnaître et tracer des droites perpendiculaires.

Consigne : Trace une droite perpendiculaire à la droite (d3) passant par le point A.



EXERCICE 4 - Compétence : Identifier et tracer des droites perpendiculaires.

Consigne : Trouve les droites perpendiculaires entre elles et complète le tableau avec le symbole \perp



	(d)	(d1)	(d2)	(d3)	(d4)	(d5)
(d)						
(d1)						
(d2)						
(d3)						
(d4)						
(d5)						

EXERCICE 5 - Compétence : Identifier et tracer des droites perpendiculaires.

Consigne : Colorie la bonne réponse.

Des droites perpendiculaires ne se rencontrent jamais

V	F
---	---

Deux droites perpendiculaires forment 4 angles droits

V	F
---	---

Pour tracer deux droites perpendiculaires, une règle suffit

V	F
---	---

FICHE 2

NIVEAU : 

EXERCICE 1 - Compétence : Identifier et tracer des droites perpendiculaires.

Consigne : A l'aide de ton équerre, identifie les droites perpendiculaires.



EXERCICE 2 - Compétence : Distinguer les mots selon leur nature : les noms.


Consigne : Trace la perpendiculaire à ces droites.





EXERCICE 1 - Compétence : Identifier et tracer des droites perpendiculaires.

Consigne : A l'aide de ton équerre, identifie les droites perpendiculaires.



EXERCICE 2 - Compétence : Distinguer les mots selon leur nature : les noms.

Consigne : Trace la perpendiculaire à ces droites.



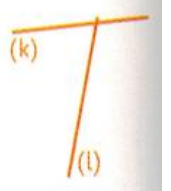
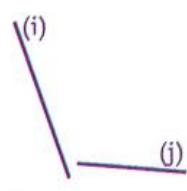
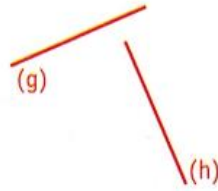
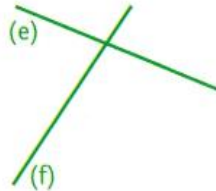
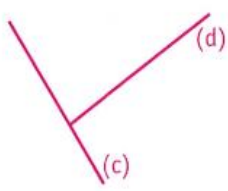
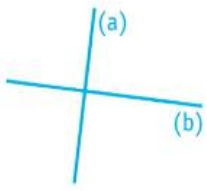
EXERCICE 3 - Compétence : Identifier et tracer des droites perpendiculaires.

Consigne : Réalise le programme de construction suivant.

- Trace $[AB] = 8\text{cm}$.
- Place un point C à 2cm de A.
- Trace la droite perpendiculaire à $[AB]$ passant par C.

EXERCICE 1 - Compétence : Identifier et tracer des droites perpendiculaires.

Consigne : A l'aide de ton équerre, identifie les droites perpendiculaires.



EXERCICE 2 - Compétence : Distinguer les mots selon leur nature : les noms.

Consigne : Trace la perpendiculaire à ces droites.



EXERCICE 3 - Compétence : Identifier et tracer des droites perpendiculaires.

Consigne : Réalise le programme de construction suivant.

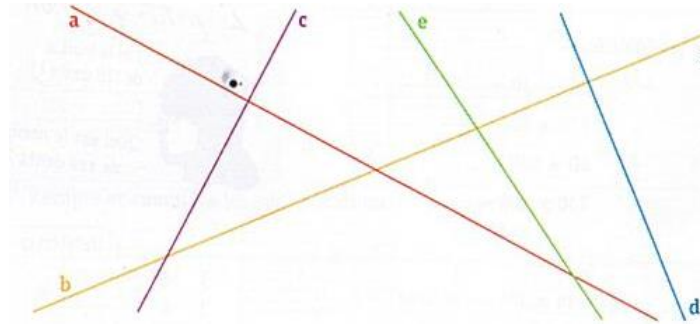
- d) Trace $[AB] = 8\text{cm}$.
- e) Place un point C à 2cm de A et un point D à 6cm de A.
- f) Trace les droites perpendiculaires à $[AB]$ passant par C et D.

FICHE 3

NIVEAU : 

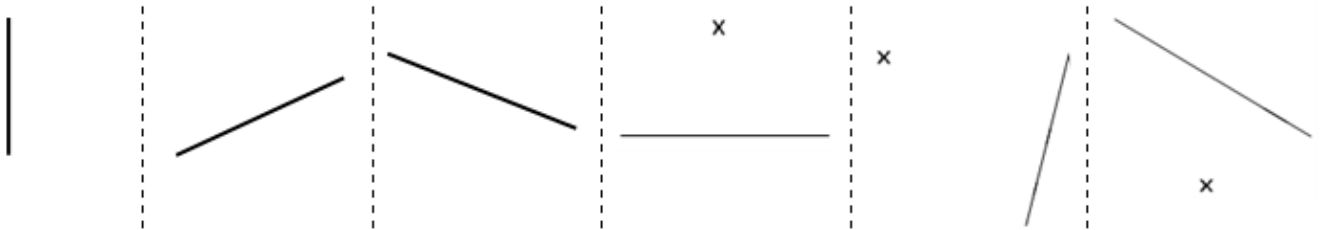
EXERCICE 1 - Compétence : Identifier et tracer des droites perpendiculaires.

Consigne : A l'aide de ton équerre, identifie les droites perpendiculaires.



EXERCICE 2 - Compétence : Distinguer les mots selon leur nature : les noms.

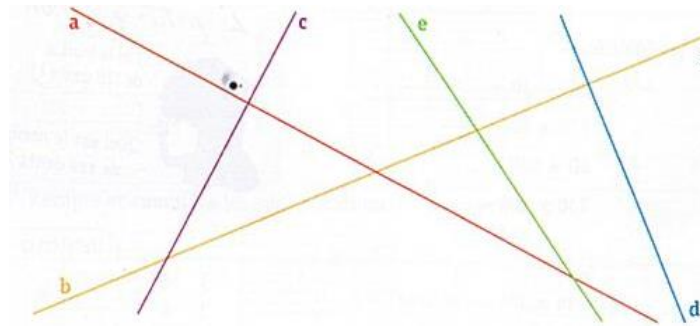
Consigne : Trace la perpendiculaire à ces droites.





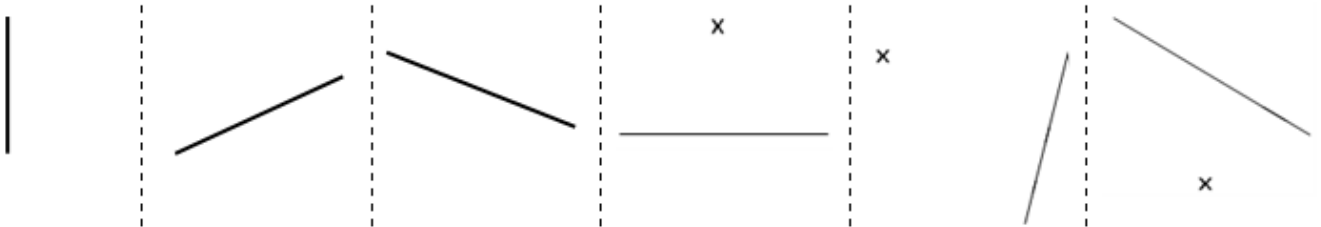
EXERCICE 1 - Compétence : Identifier et tracer des droites perpendiculaires.

Consigne : A l'aide de ton équerre, identifie les droites perpendiculaires.



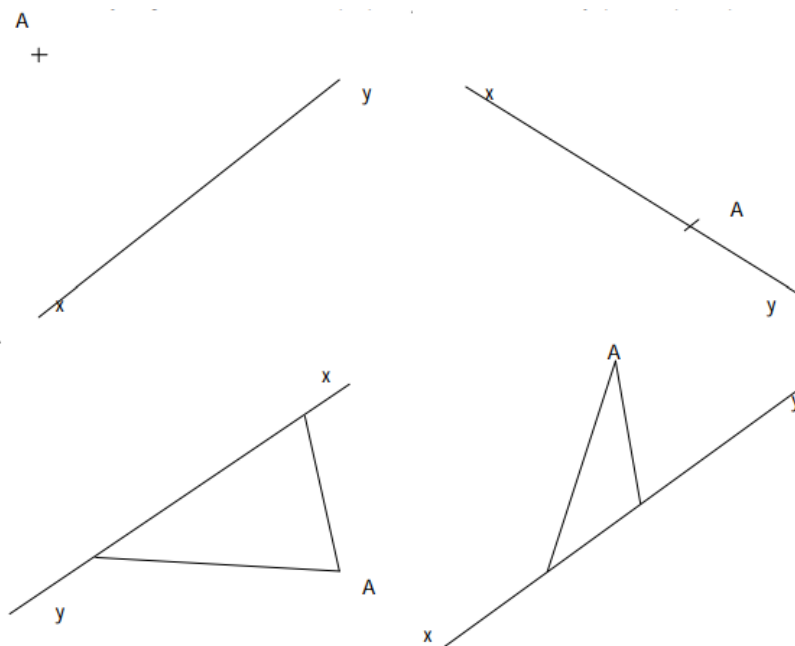
EXERCICE 2 - Compétence : Identifier et tracer des droites perpendiculaires.

Consigne : Trace la perpendiculaire à ces droites.



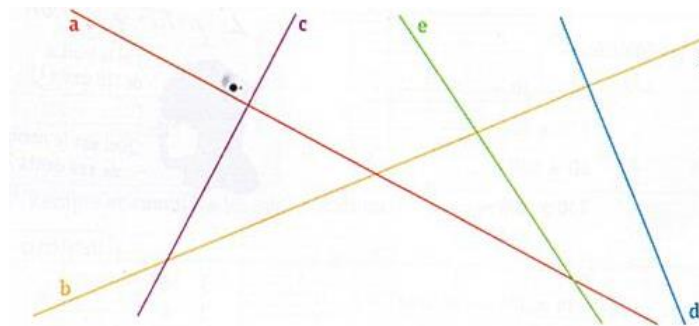
EXERCICE 2 - Compétence : Identifier et tracer des droites perpendiculaires.

Consigne : Trace pour chaque dessin la droite perpendiculaire à la droite (xy), passant par le point A.



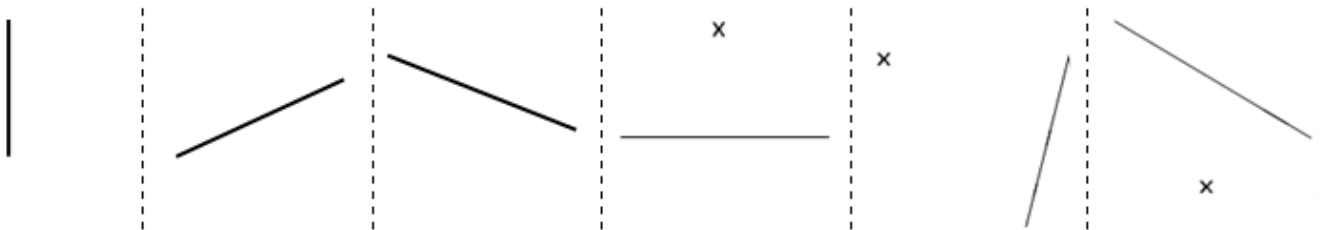
EXERCICE 1 - Compétence : Identifier et tracer des droites perpendiculaires.

Consigne : A l'aide de ton équerre, identifie les droites perpendiculaires.



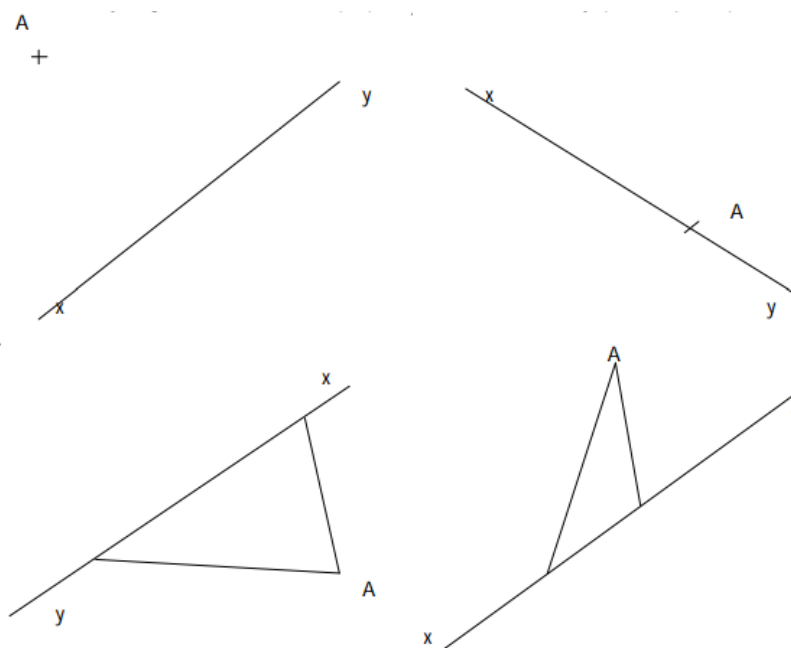
EXERCICE 2 - Compétence : Identifier et tracer des droites perpendiculaires.

Consigne : Trace la perpendiculaire à ces droites.



EXERCICE 2 - Compétence : Identifier et tracer des droites perpendiculaires.

Consigne : Trace pour chaque dessin la droite perpendiculaire à la droite (xy), passant par le point A.



EXERCICE 4 - Compétence : Identifier et tracer des droites perpendiculaires.

Consigne : Réalise le programme de construction suivant.

- a) Trace une droite (d).
- b) Place deux points A et B sur la droite (d) de telle manière à ce que la distance de A et B soit de 4 cm.
- c) Trace les droites perpendiculaires passant par A et par B.